



*Тема урока «Нумерация
чисел от 1 до 10.
Закрепление»*



1 класс





1

2

3

4

5

6

7

8


9

10

Игра «Не зевай»




- Назови самое большое однозначное число. 9
- Назови число, которое больше 6 на 1. 7
- Назови число, которое меньше 3 на 1. 2
- Какое число следует за числом 8? 9
- Какое число при счете идет перед числом 7? 6
- Сколько человек тянули репку? 3



Задача на смекалку



- В лесу стоит дуб, на каждом суку по 3 ветки, на каждой ветке по 3 яблока. Сколько яблок растет на дубе?
- – А вот из-за горки заячьи ушки торчат. Скажите, сколько за горкой зайчат сидят?
- Яблоки на дубе не растут.
- 3 зайца



Назови «соседей» числа.



3 и 5

5 и 7 7 и 9

8 и 10

