

# Приемы и способы формирования читательской компетенции обучающихся начальных классов на уроках математики



*Составила: Бойко И.М.  
учитель начальных классов  
МОБУ «СОШ №2»  
г. Минусинск*

## Читательская грамотность -

способность понимать и использовать письменную речь во всем разнообразии ее форм для целей, требуемых обществом и (или) ценных для индивида. (Определение PISA.)



# Возможности использования приемов

- при объяснении нового материала;
- при повторении;
- при закреплении;
- при контроле;
- при систематизации;
- при рефлексии;
- при ...

НА ВСЕХ ЭТАПАХ УРОКА

# «Толстые и тонкие вопросы»

Задача 1. У Славы было 5 легковых машинок, а грузовых на 4 больше. Сколько грузовых машинок у Славы?

«Тонкие» вопросы	«Толстые» вопросы
<ul style="list-style-type: none"><li>- О чем идет речь в задаче?</li><li>- Что обозначает число 5?</li><li>- Что значит «на ; больше»?</li><li>- Прочитай вопрос задачи</li></ul>	<ul style="list-style-type: none"><li>- Выберите схему к задаче, докажите свой выбор.</li><li>- Измените вопрос задачи так, чтобы задача решалась в 2 действия.</li></ul>

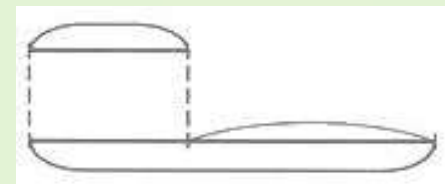
# Выбери схему к задаче:



?



?



?

# «Волшебный квадрат»

Задача 2. У мамы было 100 рублей, ей надо купить хлеб за 32 рубля и молоко за 43 рубля, Сколько она получит сдачи ?

ВОЛШЕБНЫЙ КВАДРАТ	
О ком (о чём) говорится в задаче?	Что известно?
О деньгах	Было -100 руб. 32 руб. стоит хлеб 43 руб. стоит молоко
Какой вопрос задачи?	Краткая запись.
Сколько получит сдачи?	Было - 100 руб. Израсходовал -32 руб. и 43 руб. Осталось - ?

# «Верю! Не верю!»



20 руб.




7 руб.




9 руб.



45 руб.



40 руб.



12 руб.



60 руб.



5 руб.

- 1) Карандаш и резинка вместе стоят 16 руб..
- 2) Блокнот дороже пенала на 5 руб..
- 3) Линейка и ручка стоят по 20 рублей каждая.
- 4) Книга дороже блокнота на 20 руб..
- 5) Закладки дешевле линейки на 7 руб..

# Проверь себя:

+

-

-

+

+





## «Лови ошибку!»

1. На березе росло 9 яблок. 4 яблока упало. Сколько яблок осталось на березе?
2. Маше 8 лет, а Миша старше Маши на 9 лет. Значит, Мише 17 лет.
3. Во двор прилетели 6 орлов и 3 коршуна. Сколько кур и гусей во дворе?

# «Облако слов»



**Спасибо**

**за**

**внимание !**